








Name: _____

Aufgabe 1: Schuhsalat

Die Schuhe von allen Schülern deiner Klasse sind durcheinandergeraten. Hilfe dabei die richtigen Schuhpaare zu finden indem du die Aufgaben berechnest und mit den entsprechenden Lösungen verbindest.

Aufgabe 2: Klekse


Oh nein dir ist die Tinte ausgelaufen! Trage die fehlende Zahl in die Klekse ein.

- a)  · 2 = 6 b)  · 2 =  · 2 = 16 c)  · 2 = 8 d)  · 2 = 20

Aufgabe 3: Was-weiß-der Pfau?

Berechne die Ergebnisse für folgende Aufgaben.

- a) $5 \cdot 2 = \underline{\quad}$ b) $3 \cdot 2 = \underline{\quad}$ c) $8 \cdot 2 = \underline{\quad}$ d) $7 \cdot 2 = \underline{\quad}$ e) $1 \cdot 2 = \underline{\quad}$
 f) $2 \cdot 2 = \underline{\quad}$ g) $9 \cdot 2 = \underline{\quad}$ h) $0 \cdot 2 = \underline{\quad}$ i) $6 \cdot 2 = \underline{\quad}$ j) $4 \cdot 2 = \underline{\quad}$



Wenn du alle Ergebnisse richtig berechnet hast, ergeben deine Lösungszusammengerechnet die Zahl 110!