




Name: \_\_\_\_\_






### Aufgabe 1: Schuhsalat

Die Schuhe von allen Schülern deiner Klasse sind durcheinandergeraten. Hilfe dabei die richtigen Schuhpaare zu finden indem du die Aufgaben berechnest und mit den entsprechenden Lösungen verbindest.



### Aufgabe 2: Klekse


Oh nein dir ist die Tinte ausgelaufen! Trage die fehlende Zahl in die Klekse ein.

- a)  • 10 = 30    b)  • 10 =  • 10 = 300    c)  • 10 = 310    d)  • 10 = 90

### Aufgabe 3: Was weiß der Pfau?

Berechne die Ergebnisse für folgende Aufgaben.

- a)  $2 \cdot 10 = \underline{\quad}$     b)  $4 \cdot 10 = \underline{\quad}$     c)  $8 \cdot 10 = \underline{\quad}$     d)  $7 \cdot 10 = \underline{\quad}$     e)  $1 \cdot 10 = \underline{\quad}$   
 f)  $3 \cdot 10 = \underline{\quad}$     g)  $9 \cdot 10 = \underline{\quad}$     h)  $0 \cdot 10 = \underline{\quad}$     i)  $6 \cdot 10 = \underline{\quad}$     j)  $10 \cdot 10 = \underline{\quad}$



Wenn du alle Ergebnisse richtig berechnet hast,  
 ergeben deine Lösungszusammengerechnet die  
 Zahl 450!